

# 40

γνωρίζω τα χαρτονομίσματα των 5, 10, 20, 50 & 100 ευρώ

1

Πόσα ευρώ είναι;

/2



..... €



..... €

2

Συμπληρώνω τον παρακάτω πίνακα:

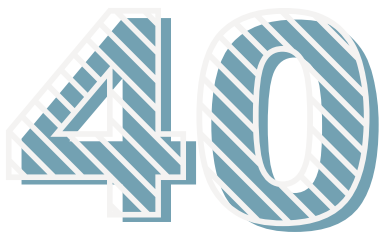
/3

αγοράζω

δίνω

παίρνω ρέστα

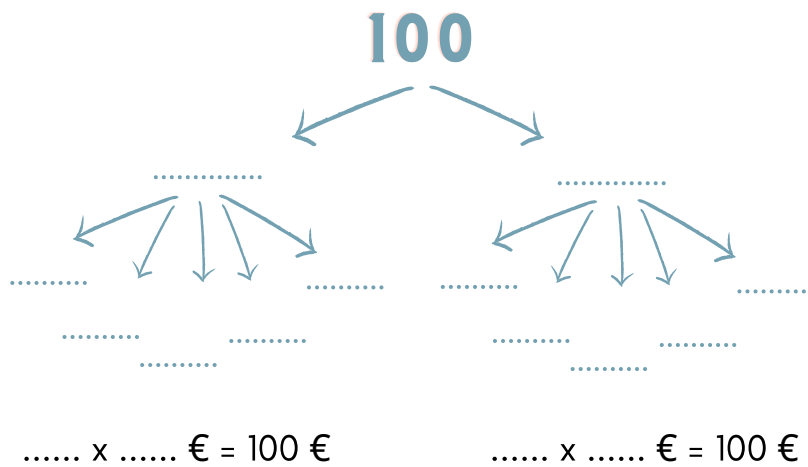
	 ..... €	..... €
	..... €	 3€
	 ..... €	..... €



# γνωρίζω τα χαρτονομίσματα των 5, 10, 20, 50 & 100 ευρώ

**3** Παρατηρώ προσεκτικά και συμπληρώνω:


/4



**4** Ποιο παιδί μπορεί να αγοράσει τη στολή της αγαπημένης του ποδοσφαιρικής ομάδας;

/6

**Γιώργος**



Έχει..... €

**Σωτήρης**

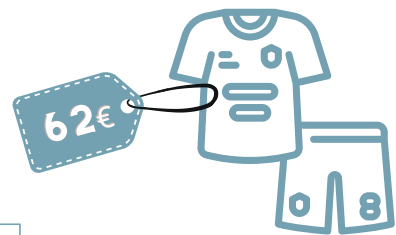


Έχει..... €

**Κυριάκος**



Έχει..... €



Μπορεί να την αγοράσει ο ..... και θα πάρει ρέστα .....

Πόσα χρήματα χρειάζεται ακόμη ο Κυριάκος; .....

Πόσα χρήματα χρειάζεται ακόμη ο Γιώργος; .....