





μετρώ το βάρος (β)

1

Με ποια μονάδα μέτρησης θα εκφράσω το βάρος τους; Αντιστοιχίζω.

/6



γραμμάρια

κιλά

τόνοι


Ποιο είναι το πιο βαρύ;


Ποιο είναι το πιο ελαφρύ;


2

Παρατηρώ τη ζυγαριά και συμπληρώνω:

/6

 = 1 κιλό

 = μισό κιλό



Οι ντομάτες ζυγίζουν Τα λεμόνια ζυγίζουν.....

Τα καρότα ζυγίζουν Όλα μαζί ζυγίζουν.....

Περισσότερο βάρος έχουν και λιγότερο



μετρώ το βάρος (β)

3


Ενώνω αυτά που ταιριάζουν ανάλογα με το βάρος τους.

/6




27 γραμμάρια

200 κιλά



40 κιλά




14 κιλά



3 κιλά

1 τόνος &
500 κιλά



4

Η Φοίβη αγόρασε 1 κιλό παγωτό και πλήρωσε 4 €.

/4



Πόσα θα πληρώσει αν αγοράσει:

μισό κιλό	ενάμισι κιλό	1 κιλό	2 κιλά	3 κιλά
..... € €	4 € € €