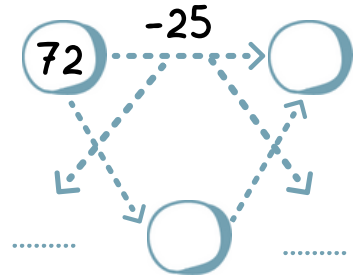
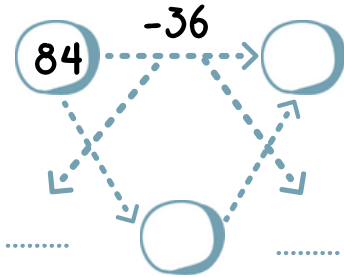
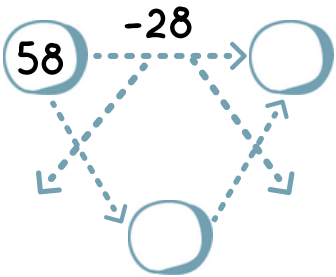
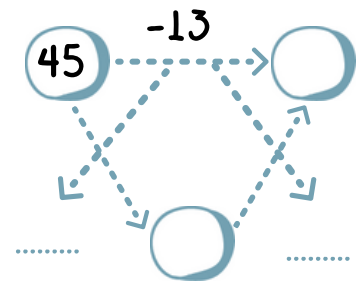
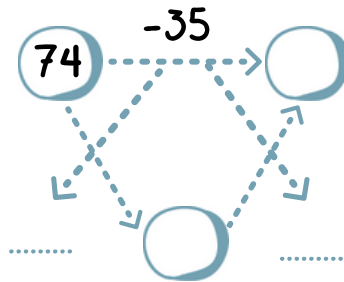
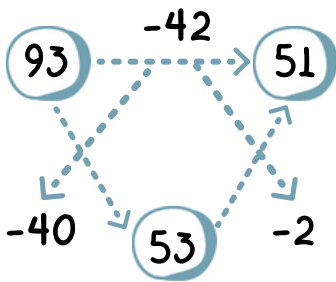




## λύνω σύνθετα προβλήματα (β)

**1** Κάνω τις πράξεις με άλλο τρόπο.

/6



**2** Κάνω τις πράξεις όπως το παράδειγμα.

/4

$$37 + 39 = 30 + 7 + 30 + 9 = 60 + 16 = 60 + 10 + 6 = 76$$

$$55 + 28 =$$

$$57 + 35 =$$

$$25 + 72 =$$

$$41 + 49 =$$

# 37

## λύνω σύνθετα προβλήματα (β)

**3** Ο Δημήτρης από το μανάβικο της γειτονιάς αγόρασε τα παρακάτω:



/6



17 ευρώ



22 ευρώ



16 ευρώ

Πόσα πλήρωσε περίπου; .....

Υπολογίζω με το νου:

Ελέγχω με κάθετη πράξη:

Πόσα ρέστα πήρε αν έδωσε:



Περίπου; .....

Υπολογίζω με το νου:

Ελέγχω με κάθετη πράξη: